



„Mosty mezi školou a životem“

Jméno: _____

Škola: _____

Třída: _____

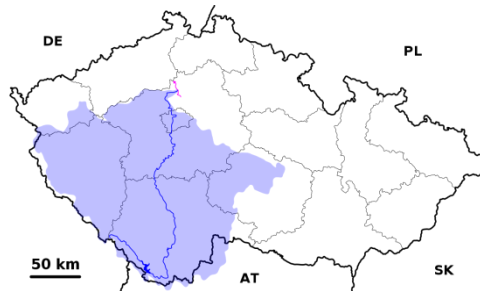
Datum: _____

Pracovní list č. 3 (zeměpis)

Úkol č. 1

Na obrázku je vyznačeno:

- a) úmoří Severního moře
- b) povodí Vltavy
- c) povodí Labe
- d) úmoří Černého moře

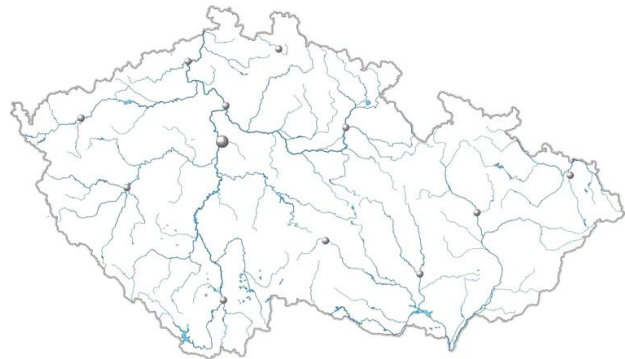


Úkol č. 2


Poznej podle informací nebo fotografií známá místa, která leží na nejdelší řece ČR - **Vltavě**.

- a) Doplň do prázdného políčka u fotografie nebo informace čísla 1 až 8 tak, aby odpovídala pořadí, ve kterém jimi řeka protéká.
- b) Do tabulky k příslušným číslům zapiš názvy míst.

1.	
2.	
3.	
4.	
5.	
6.	
7.	
8.	



Město, které leží na soutoku
řek Vltavy a Malše.




Přehradní nádrž, která se svým
objemem zadržené vody řadí
na první místo v České
republice.

Největší přehradní nádrž
České republiky.



Nejjižněji položená obec České
republiky, která leží na
nejnavštěvovanější vodácké
trase.



Úkol č. 3

Doplň chybějící informace do textu o řece **Labe** (číselné údaje vybírej z tabulky):

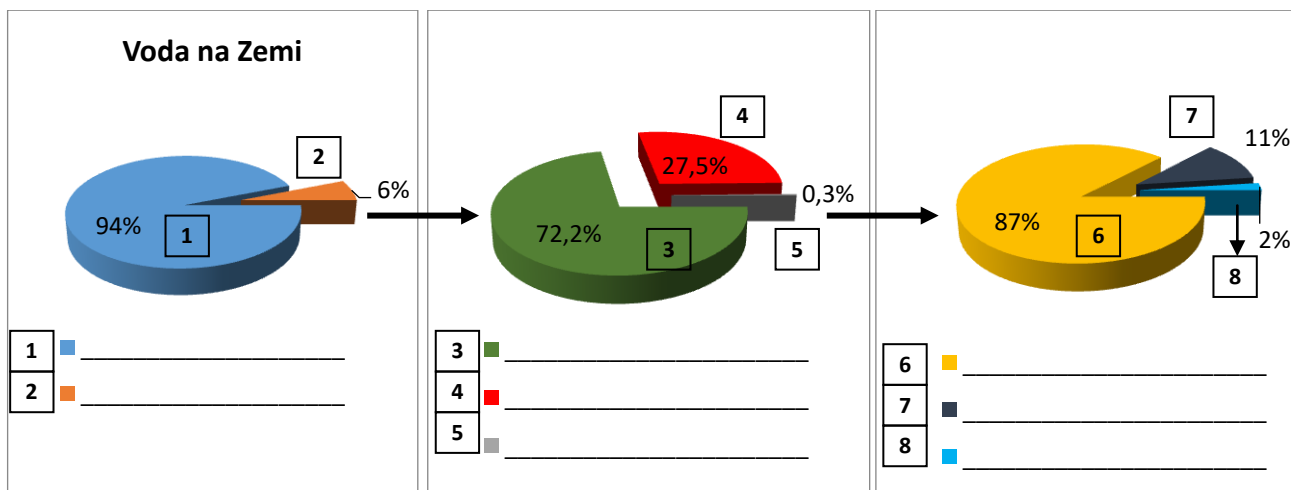
Labe je jednou z největších řek Evropy. Pramení v pohoří _____ v nadmořské výšce _____ m n. m., z České republiky teče do _____ (stát), kde ústí do _____ moře. Labe je celkem _____ km dlouhé, z toho _____ km teče na území ČR. Jeho povodí zaujímá plochu _____ km². Na Mělníku je průměrný průtok Labe (po soutoku s Vltavou) 240 m³/s, historicky nejvyšší hodnota _____ m³/s tu byla naměřena při povodních v roce 2002, hladina řeky zde tehdy vystoupala do výšky _____ m. Nejnižše položeným místem České republiky (_____ m n. m.) je Hřensko, kde řeka Labe opouští ČR. Na hranicích má řeka průměrný průtok _____ m³/s. Průměrný průtok u ústí Labe do moře je _____ m³/s.

1 094	115	870
308	148 268	5 050
370	1 384	10,35

Úkol č. 4

Jaké je rozložení zásob vody na Zemi? Pojmy vybírej z rámečku.

slaná voda	povrchová voda	jezera	ledovce
podpovrchová voda	sladká voda	bažiny	řeky



Použité obrázky:

obr. 1 PASTORIUS. *Wikipedia.cz* [online]. [cit. 31.3.2019]. Dostupný na WWW:
[https://cs.wikipedia.org/wiki/Ro%C5%BEmberk_\(hrad\)#/media/File:Hrad_rozemberk_2.JPG](https://cs.wikipedia.org/wiki/Ro%C5%BEmberk_(hrad)#/media/File:Hrad_rozemberk_2.JPG)

obr. 2 MORAVEC, Hynek. *Wikipedia.cz* [online]. [cit. 2.4.2019]. Dostupný na WWW:
https://cs.wikipedia.org/wiki/Soubor:Stechovice_reservoir_Vltava_7328.JPG