

<https://www.facebook.com/MATHS-is-ALL-Around-3rd-Lyceum-of-Veroia-112822753430011>



Ο χρήστης **MATHS is ALL Around - 3rd Lyceum of Veroia** ενημέρωσε τη φωτογραφία εξωφύλλου.
11 Νοεμβρίου 2019 · 🌐



3rd Lyceum of Veroia



Erasmus+

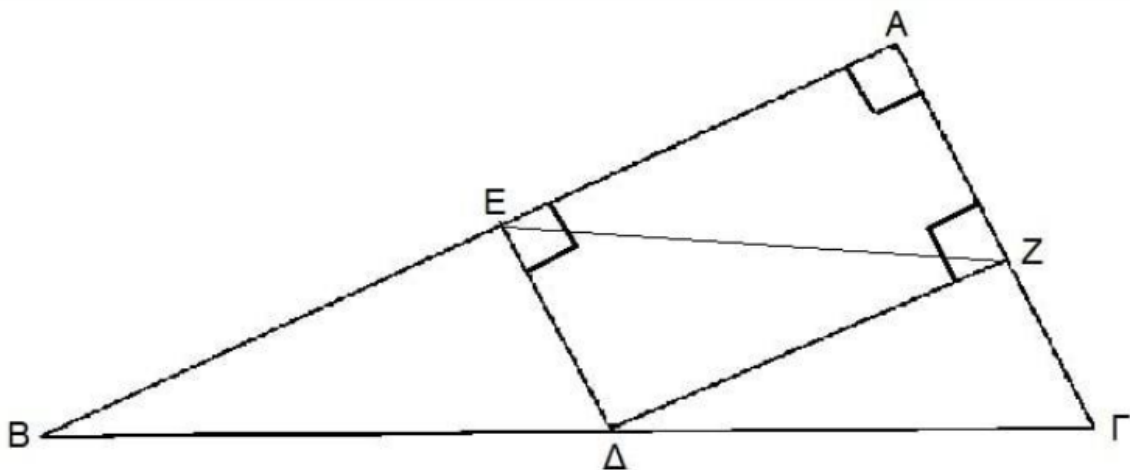


MATHS is ALL Around - 3rd Lyceum of Veroia

28 Νοεμβρίου 2020 · 🌐

Το παρακάτω ερώτημα αναδεικνύει την ομορφιά της Ευκλείδειας Γεωμετρίας αφού μπορεί να δώσει εξαιρετικά κομψές λύσεις.

Έστω ορθογώνιο τρίγωνο $AB\Gamma$ (A ορθή). Από τυχαίο σημείο Δ της υποτεινούσας φέρνω παράλληλες προς τις κάθετες πλευρές AB και $A\Gamma$ που τέμνουν τις AB και $A\Gamma$ στα σημεία E και Z αντίστοιχα. Ποια θέση πρέπει να πάρει το σημείο Δ της $B\Gamma$ ώστε το μήκος του ευθυγράμμου τμήματος EZ να είναι το μικρότερο δυνατό;



83

Απήχηση

1

Αλληλεπίδραση

-

Δείκτης διανομής

Πρώθηση δημοσίευσης

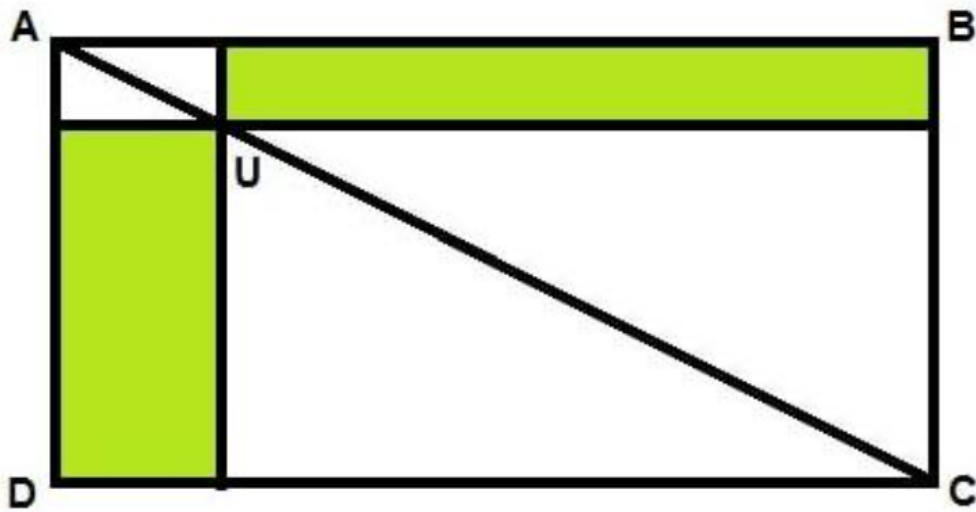


MATHS is ALL Around - 3rd Lyceum of Veroia

18 Νοεμβρίου 2020 · 🌐

...

Μπορείτε να αποδείξετε με εύκολο τρόπο ότι τα πράσινα ορθογώνια έχουν ίσα εμβαδά;



93
Απήχηση

6
Αλληλεπιδράσεις

–
Δείκτης διανομής

Πρώθηση δημοσίευσης

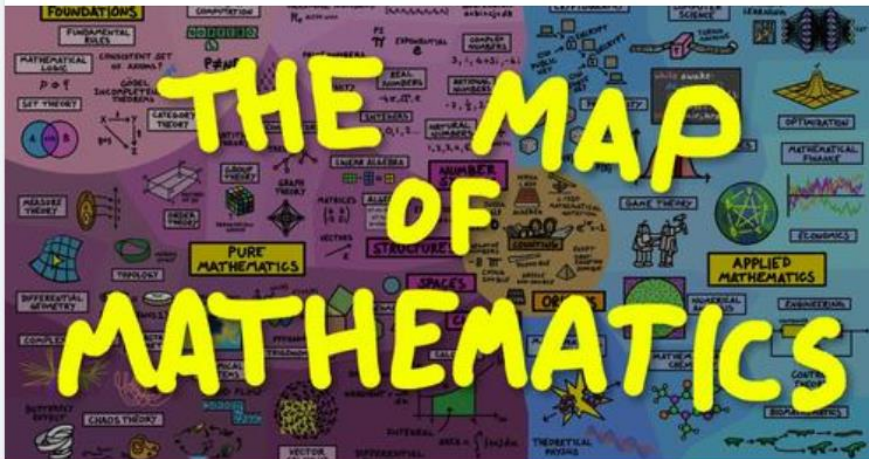


MATHS is ALL Around - 3rd Lyceum of Veroia

19 Φεβρουαρίου 2020 · 🌐

...

<https://www.youtube.com/watch?v=OmJ-4B-mS-Y&feature=share...>



YOUTUBE.COM

The Map of Mathematics

The entire field of mathematics summarised in a single map! This shows how pure mathematic...

18
Απήχηση

3
Αλληλεπιδράσεις

Πρώθηση δημοσίευσης