


Българите извън пределите на свободната държава



6 Български екзархийски училища в Македония

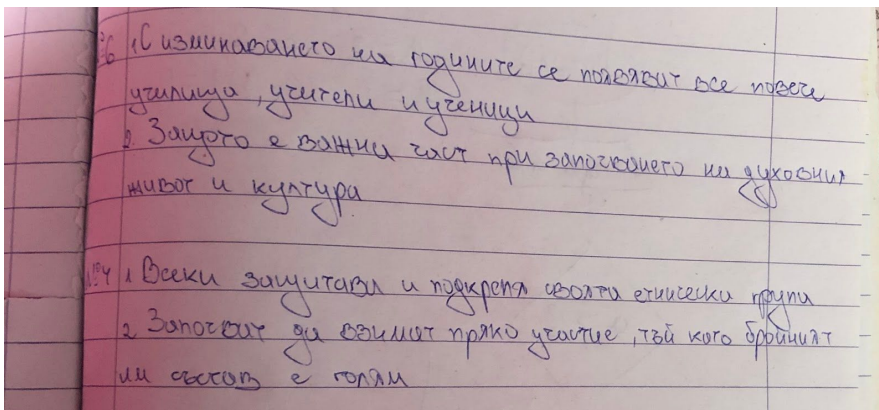
Години	Училища	Учители	Ученици
1886 – 1887	353	516	18 315
1896 – 1897	843	1306	31 719
1900	781	1221	39 973
1912	1196	2096	70 000

- Как се развива българското учебно дело в Македония?
- Защо Екзархията обръща особено внимание на образованието?

4 Населението на Македония според различни статистики в края на XIX и началото на XX в.

Автори	Българи	Сърби	Гърци	Турци
Сп. Гопчевич (сърбин)	57 600	2 048 320	201 140	231 400
Г. Николидис (грък)	428 000	10 000	694 000	475 000
В. Кънчов (българин)	1 184 000	700	228 700	499 200
Османска статистика	575 500	199 600	628 000	1 498 500

- Как може да се обяснят големите разлики в данните за отделните етнически групи?
- Какво е отражението им върху политиката на балканските държави спрямо Македония?



Българското стопанство от освобождението до войните

Внос и износ на машини, 1911 г. (в млн. лв.)

Страна	Внос	Износ
Австрия	10 500	1 400
Германия	10 500	1 400
Франция	10 500	1 400
Италия	10 500	1 400
САЩ	10 500	1 400
Съединените държави	10 500	1 400
Турция	10 500	1 400
Финландия	10 500	1 400

Из Доклад за земеделския поминък в Софийско в края на XIX в.

- Кои изгоди за развитието на земеделието в качествено отношение са направени в Доклада?
- Кои са най-сериозните трудности пред земеделиците според него?

Посочете трите държави с най-голям внос в страната. Как може да се обясни този факт? С кои държави България има положителен търговски баланс (по-голям износ, отколкото внос)? Как може да се коментира това?

Показатели

Показатели	1878	1900	1911
Обем на растениевъдството	49	75	112
Обем на индустриалното производство	3	26	100
Дължина на жп линии (км)	427	1565	1934
Внос (млн. златни лв.)	32	46	199
Износ (млн. златни лв.)	20	53	184

7 Икономическо развитие на България 1878 – 1911 г.

- Кои стопански отрасли търпи най-бързо развитие и защо?
- Представете тенденциите във вноса и износа.

8 Състояние на едрата индустрия през 1911 г.

- Посочете отраслите с най-големи инвестиции и с най-голям брой работници. Как може да се обясни това?
- Опишете структурата на едрата индустрия в страната през 1911 г.

Видове индустрии	Брой на заведенята	Вложен капитал в млн. лв.	Брой на работниците
Мехи и кариери	6	4,399	1862
Метална	29	7,133	2314
Керамична	16	6,446	1281
Камическа	27	3,446	655
За храна и пиитиета	146	36,567	3126
Текстилна	72	15,881	4267
Дървена и мебелна	18	4,363	1265
Кожена	24	2,755	421
Картонена	4	1,573	194
Ел. енергия и тютюн	3	8,555	501
Общо:	345	91 098	15 886

193

№ 5

5.1. Австро-Унгария, Великобритания и Германия. Жя връзки, от които от предприемки договори

5.2. Турция, Гърция и по-време на работното и връзките от които

№ 7

7.1 Н.п. линии, защото са реуре за развитие на търговията

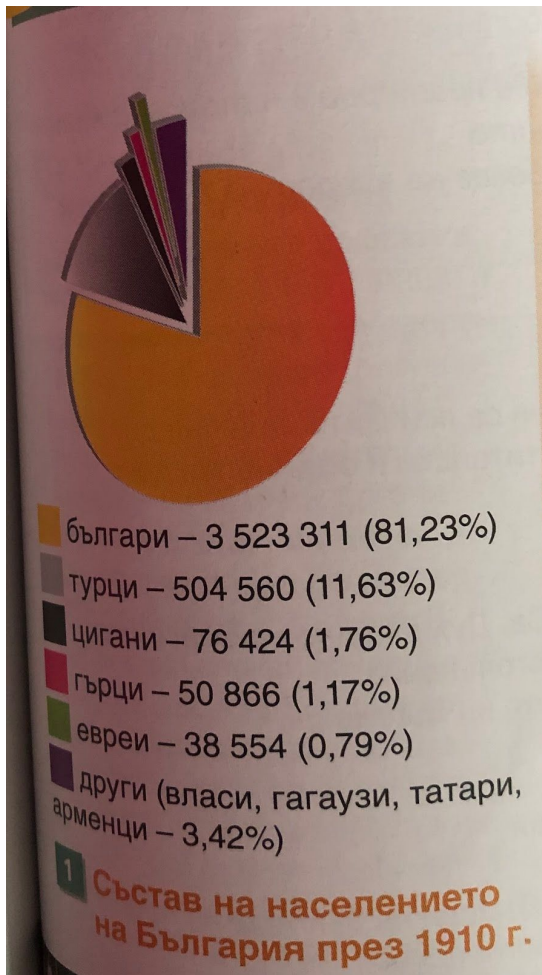
7.2 От 1900 вноса е повече от износа.

№ 8

8.1 Текстилна и крайска. За крайските детайли от някога ~~от които~~ от текстилната. За крайска не се изисква високо образование

8.2 Построяване на банки, училища, гимназии, пощи и др.

Модернизация на българското общество



1887 г.	28 абонати
1895 г.	202 абонати
1911 г.	2548 абонати

4 Телефонната мрежа в България (1887 – 1911)

№1 Демографски бум. Българите живеят заедно с други по-големи и по-малки етнически групи.

№4 След появата на първия телефон, абонатите се увеличават.

Българското образование и култура

№3 Грамотността се увеличава, както и българското образование и култура.

3 Грамотността след 1878 г.

1887 г.	3,3%
1900 г.	23,9%
1905 г.	27,9%

Българското стопанство между двете световни войни



N^o 3

1. Тези, които са до 40 дка.
2. Не им позволява развитието на по-големи стопанства и повече производство

Сектор	1911	1930
Метали и машини	104	470
Химикали	30	343
Нейтрални строителни материали	28	104
Цимент	27	104
Хартия	15	104
Тъкани	15	104
Захар	15	104

4 Увеличение на индустриалното производство през 1930 г. (в пъти) в сравнение с 1911 г.

• При кои производства има най-голямо увеличение? Как по-малко да се свърже с промяната в близкото бъдеще на хората?

• Обяснете възможните причини за събитията, увеличението на производството на хартия и тъкани.

5 Икономическо развитие на България 1919 – 1939 г.

Показатели	1911	1921	1929	1939
Обем на растениевъдството	112	82	108	129
Обем на индустриалното производство	100	123	218	372
Дължина на жп линиите (км)	1934	2235	2467	3123
Внос (млн. шв. франка)	199	163	311	272
Износ (млн. шв. франка)	184	141	238	322

• Счетоводните обща картина на стопанското развитие през периода. • Как може да се обясни свръх в растителностите? • Вземете за какво може да е по-интересен търговски баланс?

6 Момебен за дъжд, с Долни Лозен, Софийско, 1944 г.

• Наредете избори за състоянието на земеделците и за енергията на селските.

8 Подпомагане на земеделците

Чл. 4. Всеки дължник земеделец стопанин или неговите поличители, както и всеки негов кредитор, може да поиска през надлъжния миров судия спонсорирано на земеделски конкордат (отпашане/инкорпорация). Чл. 5. Дългът може да се намалива от мировия съдия до 50%, а по-големи намаления могат да се направят със съгласието на болшинството от кредиторите. Чл. 7. Българската земеделска банка гарантира пред кредиторите изпълнението на сумата, установена по този конкордат, ако по нея притежателят на дължаника представляват за нея достатъчно обезпечение за тази гаранция.

Из Закон за закрила на земеделския стопанин, 1930 г.

• В каква стопанска обстановка е изграден законът?
 • Защо се обръща специално внимание на загаряването на земеделците? • Какво са цели с този закон?

Година	Внос %	Износ %
1929	22,2	29,3
1934	40,1	42,7
1938	52,0	58,9
1940	69,6	58,2

10 Участие на Германия в българската търговия

• Правителствата обещават мерки в търговията между двете страни. • Лотарингските договори, които предоставят за взаимна полза информация за стопанското състояние на България и Германия.

11 Ролата на средната класа

Гри Мушанов! По въпросите, които засягат интересите на широките народни маси, по въпроси, които днес възбуждат обществото, аз бих Ви препоръчал една да бъде Вашата ръководна мисъл, един да бъде стимулът на Вашата дейност: защита интересите на средната класа. Върху средната класа, която създава благоденствието на другите икономически по-високи категории, която създава възможност за по-висока работническа надница, върху тази средна класа се крепи днешната държава, тя е здравата носителка на нашия национален дух, тя стои напредно на полето на развитието на разрушителните идеи и на разлаганата на чуждите.

Из Изказване на депутата Г. Петров в Народното събрание, 1933 г.

• Какви препоръки към стопанската политика на правителството отпадат резултатът? • Сравнете невзобото разбиране за средната класа със съвременната и характеристиката.

№4 1. При производството на цимент и захар. Захарта е
понос за домакинския живот, а цимента възможност
за ефект по-качествено строителство.
2. Те са по-скъпи

№5 1. С увеличаване на горивите се увеличават все повече ^{Ето}
2. Строителството на фабрики, мп-пункти и тн се увеличават земи ^{понос}
гори, релефна и др.
3. България не губи нищо.

№1 1. България е равнинен много по-беден от големите
държави, но не на последно място. 1. Вегетацията е

№10 Те са в тези форми