



Nome: D. João

Data: 11/12/2019

### Maths & Christmas

A Matilde cortou seis estrelas para colocar na árvore de Natal e o Tito cortou mais três que a Matilde. Quantas estrelas cortou o Tito?



Desenha.



Completa.

$$6 \boxed{+} 3 = 9$$

R: Cortou 9 estrelas.



Nome:


*Eduardo*

Data:


*10/12/2019*

### Maths & Christmas

A Matilde cortou seis estrelas para colocar na árvore de Natal e o Tito cortou mais três que a Matilde. Quantas estrelas cortou o Tito?



Desenha.



Completa.

$$6 \square + 3 = 9$$

R: Cortou 9 estrelas.



Nome:


RAFAEL

Data:


11/12/2019

### Maths & Christmas

A Matilde cortou seis estrelas para colocar na árvore de Natal e o Tito cortou mais três que a Matilde. Quantas estrelas cortou o Tito?



Desenha.



Completa.

$$6 \boxed{+} 3 = 9$$

R: Cortou 9 estrelas.





Nome: Nuno Lucas

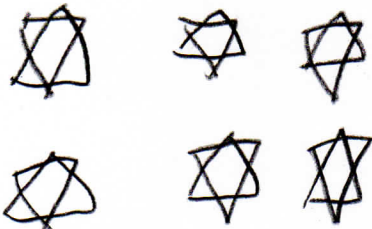
Data: 11/12/2019

### Maths & Christmas

A Matilde cortou seis estrelas para colocar na árvore de Natal e o Tito cortou mais três que a Matilde. Quantas estrelas cortou o Tito?



Desenha.



Completa.

$$6 \boxed{+} 3 = 9$$

R: Cortou 9 estrelas.



Nome: A. Ana

Data: 11/12/2019

### Maths & Christmas

A Matilde cortou seis estrelas para colocar na árvore de Natal e o Tito cortou mais três que a Matilde. Quantas estrelas cortou o Tito?



Desenha.



Completa.

$$6 \boxed{+} 3 = 9$$

R: Cortou 9 estrelas.




Nome: CAROLINA

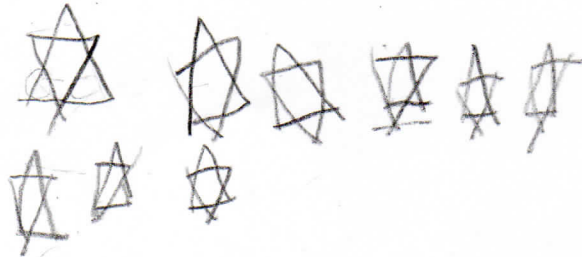
Data: 19-20-2019

### Maths & Christmas

A Matilde cortou seis estrelas para colocar na árvore de Natal e o Tito cortou mais três que a Matilde. Quantas estrelas cortou o Tito?



Desenha.



Completa.

$$6 \boxed{+} 3 =$$

R: Cortou 9 estrelas.





Nome: \_\_\_\_\_


Data: \_\_\_\_\_

Yago Almeida

11/12/2019

### Maths & Christmas

A Matilde cortou seis estrelas para colocar na árvore de Natal e o Tito cortou mais três que a Matilde. Quantas estrelas cortou o Tito?



Desenha.



Completa.

$$6 \square 3 = 9$$

R: Cortou 9 estrelas.



Nome: ANASTÁCIA


Data: 11 / 12 / 2019

### Maths & Christmas

A Matilde cortou seis estrelas para colocar na árvore de Natal e o Tito cortou mais três que a Matilde. Quantas estrelas cortou o Tito?



Desenha.



Completa.

$$6 \boxed{+} 3 = 9$$

R: Cortou 9 estrelas.